






## Actividad 1

### ¿Sabes cómo identificar un robot?

Identifica los siguientes objetos como máquinas, autómatas o robot, y explica tú respuesta.

				
Máquina fotocopidora	Interbotix	Climatizador de automóvil	Kuka móvil	Calculadora no programable

				
Rosie limpia alfombras	Cámara fotográfica	Batidora eléctrica	Maquivela	Gato cuerdas

A partir de los siguientes textos e imágenes escribe: ¿Cuál de ellas no es una parte básica de un robot? ¿A qué imagen corresponde cada parte?

1. Sensores	2. Actuadores	3. Estructura física	4. Unidad de Control	5. Fuente de energía	6. Cables de conexión
